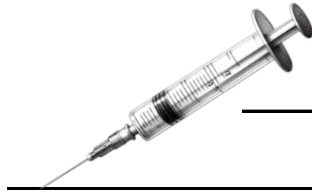


Der Druck in eingeschlossenen Flüssigkeiten

1. Was passiert, wenn man im Experiment den Kolben hinein drückt?

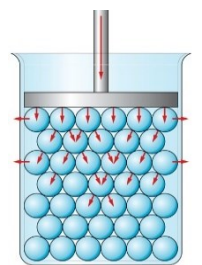
2. Nenne physikalische Gründe für die Beobachtung!

3. Beschreibe den Aufbau einer einfachen Spritze!

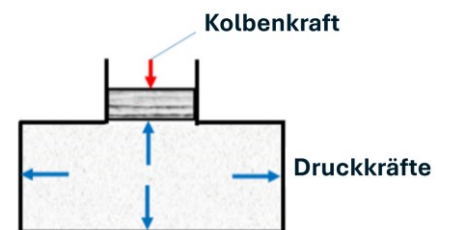


Druck und Teilchenmodell

Eigenschaften von Flüssigkeiten:



Kolbendruck:



Kolbendruck

_____ :

= _____

= _____

_____ :

_____ :

